

达标测试卷

| 题号 | 一 | 二 | 三 | 四 | 五 | 六 | 七 | 八 | 九 | 十 | 总分 |
|----|---|---|---|---|---|---|---|---|---|---|----|
| 得分 | | | | | | | | | | | |

一、填一填。(每空1分,共12分)

1. $14-9=(5)$,想9加(5)等于14,则14减9等于(5)。

2. $12-8=(4)$,想8加(4)等于12,则12减8等于(4)。

3. 在括号里填上合适的数。

$9+(4)=13$

$6+(8)=14$

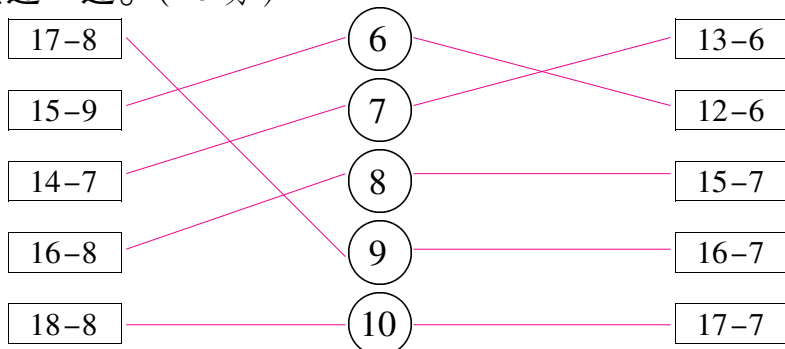
$8+(7)=15$

$8+(8)=16$

$4+(7)=11$

$7+(6)=13$

二、连一连。(10分)

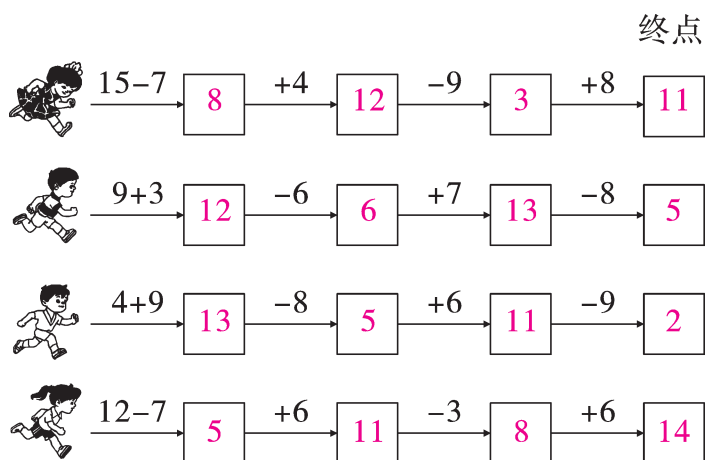


三、算一算。(每空0.5分,共7分)

$$\left. \begin{array}{l} 11 \\ 13 \\ 16 \\ 14 \\ 12 \\ 15 \\ 19 \end{array} \right\} - 8 = \left\{ \begin{array}{l} 3 \\ 5 \\ 8 \\ 6 \\ 4 \\ 7 \\ 11 \end{array} \right.$$

$$\left. \begin{array}{l} 15 \\ 17 \\ 14 \\ 13 \\ 16 \\ 12 \\ 11 \end{array} \right\} - 7 = \left\{ \begin{array}{l} 8 \\ 10 \\ 7 \\ 6 \\ 9 \\ 5 \\ 4 \end{array} \right.$$

四、请你帮他们跑到终点。(16 分)



五、在 ○ 里填上“>”“<”或“=”。(6 分)

$12-9 < 10-6$

$13-3 = 20-10$

$13-9 < 14-9$

$16-9 < 19-3$

$15+4 > 18-9$

$15-9 = 14-8$

六、不计算,根据例子写算式。(4 分)

$9+8=17$

$15-9=6$

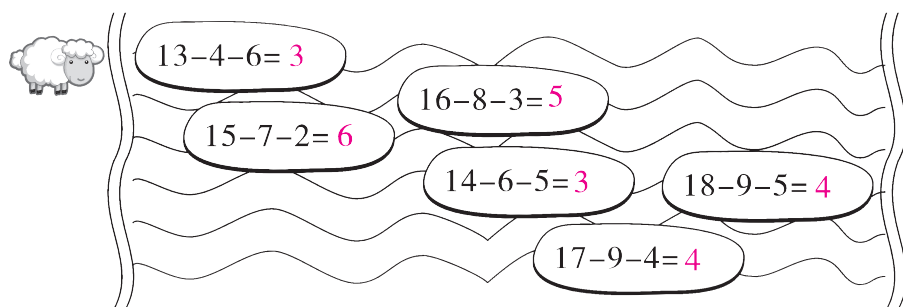
$17-8=9$

$15-6=9$


$17-9=8$

$6+9=15$ (或 $9+6=15$)

七、帮小羊过河。(6 分)

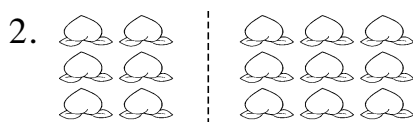


八、看图列式计算。(第1,2题每题6分,第3,4题每题3分,共18分)



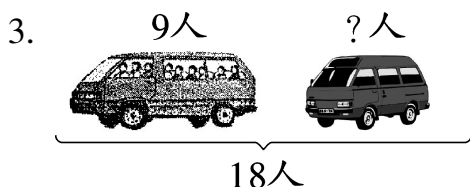
$$\boxed{12} - \boxed{4} = \boxed{8}$$

$$\boxed{12} - \boxed{8} = \boxed{4}$$

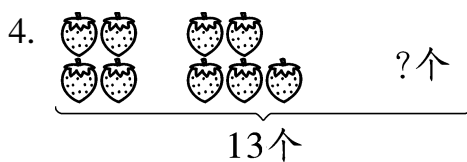


$$\boxed{15} - \boxed{6} = \boxed{9}$$

$$\boxed{15} - \boxed{9} = \boxed{6}$$



$$\boxed{18} - \boxed{9} = \boxed{9} \text{ (人)}$$



$$\boxed{13} - \boxed{4} - \boxed{5} = \boxed{4} \text{ (个)}$$

九、解决生活中的数学问题。(共16分)

1. 一共要栽 17 棵树,还要栽多少棵?(3分)



$$\boxed{17} - \boxed{8} = \boxed{9} \text{ (棵)}$$

2. 两只小猫一共钓了多少条鱼?(3分)



$$\boxed{10} + \boxed{6} = \boxed{16} \text{ (条)}$$

3. 下图中,苹果和梨一共有 14 个,其中梨有 6 个,苹果有多少个?

(4 分)



$$\boxed{14} \ominus \boxed{6} = \boxed{8} \text{ (个)}$$

4.

我钓了3条。

弟弟

我钓了11条。

哥哥



(1) 弟弟比哥哥少钓多少条? (3 分)

$$\boxed{11} \ominus \boxed{3} = \boxed{8} \text{ (条)}$$

(2) 弟弟和哥哥一共钓了多少条? (3 分)

$$\boxed{11} \oplus \boxed{3} = \boxed{14} \text{ (条)}$$

十、(趣味题) 请你只移动一根火柴棒,使下面的等式成立。(5 分)

$$1 + 4 = 7$$

【答案】 $11 - 4 = 7$